

NOM, prénom :

- Devoir de géographie : comment comprendre la répartition de la population mondiale ?-

I - Je sais : (8 pts)

1 - Qu'est-ce que la densité de population ? Comment la calcule-t-on ? (1 pt) _____

2 - Donne une expression synonyme de « forte augmentation de la population » : (0.5 pt)

3 - Donne deux exemples de facteurs naturels : (0.5 pt) _____

4 - Donne un exemple montrant qu'une contrainte naturelle peut devenir une ressource naturelle : (1 pt)

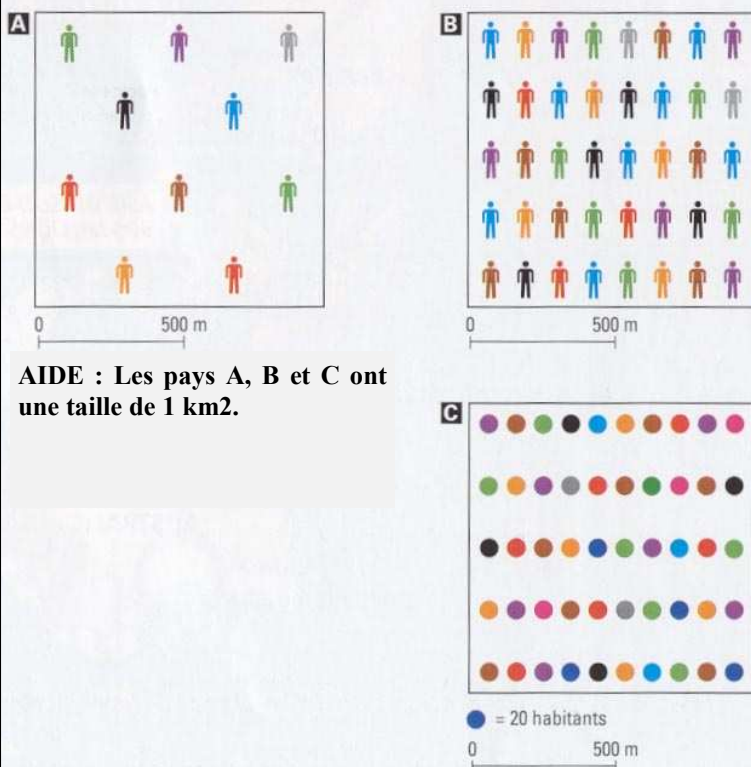
5 - Que signifie immigrer ? (1 pt) _____

6 - Comment calcule-t-on l'accroissement démographique d'une population ? (1 pt) _____

7 - Qu'est-ce qu'un pays ? (1.5 pt)

8 - Donne deux exemples de différences pouvant exister entre deux pays ? (Donne des exemples précis) (1.5 pt)

II - Je sais faire : (12 pts)



AIDE : Les pays A, B et C ont une taille de 1 km².

1 - Calcul dans le pays A :

=> Nombre d'habitants : _____

=> Opération à poser pour trouver la densité de population : _____

=> Densité de population dans le pays A : _____

2 - Calcul dans le pays B :

=> Nombre d'habitants : _____

=> Opération à poser pour trouver la densité de population : _____

=> Densité de population dans le pays B : _____

3 - Phrases à compléter à l'aide d'un VOCABULAIRE PRECIS :

Dans le pays A, la densité de population est _____.

Ce pays est _____ peuplé.

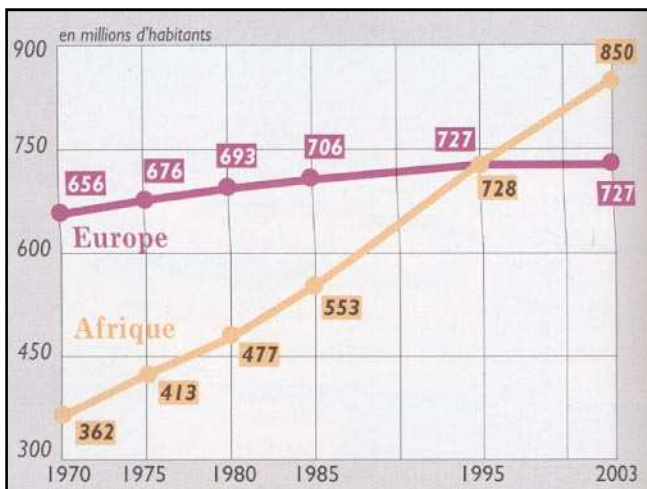
A l'inverse, le pays B est _____ peuplé. La densité

de population y est _____.

4 - BONUS :

Quelle est la densité de population dans le pays C ?

3 pts



Titre :

1 - Combien l'Europe compte-t-elle d'habitants aux dates suivantes ?

1975 : _____ 2003 : _____

2 - Combien l'Afrique compte-t-elle d'habitants aux dates suivantes ?

1975 : _____ 2003 : _____

3 - Complète les phrases ci-dessous afin qu'elles aient un sens :

« En 1975, l'Europe était _____ que l'Afrique. »

« En 2003, l'Europe est _____ que l'Afrique. »

« La croissance _____ de l'Afrique est donc _____ »

4 - Trouve un titre à ce document :

3 pts

D'après J. Bisson, *Le Sahara, mythes et réalité d'un désert convoité*, 2003 :

« Le Sahara est le plus grand désert du monde. Les conditions de vie y sont difficiles : des pluies très rares, irrégulières, mais très violentes, des températures dépassant les 50 degrés le jour, et baissant de 30 degrés la nuit... »

Ce désert humain, 16 fois grand comme la France, a toutefois vu sa population triplé depuis 1950. Aujourd'hui, 6 millions d'habitants le peuplent. Les chantiers pétroliers ont en particulier attiré une population venue du Nord, afin de gagner de l'argent. Les villes en particulier ont grandi : en 1950, il n'y avait qu'une seule ville de plus de 50 000 habitants : Biskra, en Algérie. Aujourd'hui, on en compte trente de plus de 100 000 habitants. »

1 - De quelle région est-il question dans le texte ?

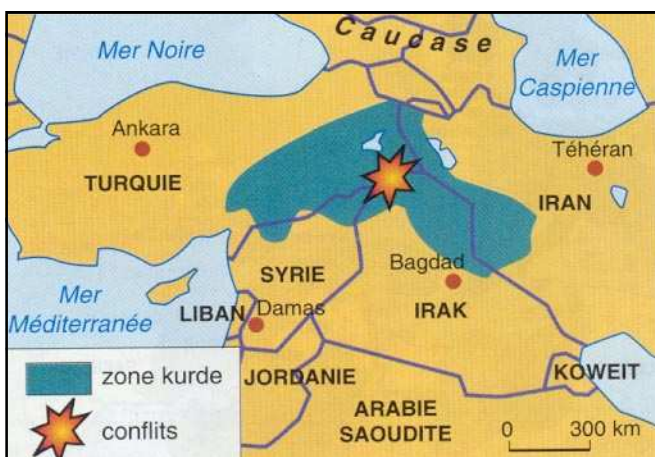
2 - Que dire des densités de population dans cette région ?

3 - Quelles sont les contraintes naturelles dans cette région ?

4 - Qu'est-il pourtant arrivé à la population depuis 50 ans ? (+ chiffres)

5 - Comment expliquer cette évolution ? (+ vocabulaire du cours)

3 pts



1 - Quel est le peuple dont il est ici question ?

2 - Quel est son problème ? (sois précis)

3 - Qu'apprend-on ici sur les frontières de certains pays de la planète ?

3 pts