

NOM, prénom :

## Devoir Histoire : La République romaine :

### I - Je sais : ( 8 pts )

1 - Pourquoi Virgile est-il connu ? ( 1 pt ) \_\_\_\_\_

2 - Quand, comment et par qui la ville de Rome a-t-elle été créée selon la légende ? ( 1.5 pt )

3 - Quand la République romaine a-t-elle été créée, et quels sont ses trois piliers ? ( 2pts )

4 - « Rome est une république oligarchique » : explique cette phrase à l'aide d'un vocabulaire précis ( 2 pts )

5 - Que sais-tu de la bataille d'Alésia (date, combattants, conséquences) ? ( 1.5 pt ) \_\_\_\_\_

### II - Je sais faire : ( 12 pts )

D'après Virgile, *L'Enéide*, 1er s. av JC :

*Selon la légende, les Romains descendent des Troyens. Enée est le fils de la déesse Vénus (= Aphrodite). Avec son père Anchise et son fils Ascagne, Enée réussit à fuir la ville de Troie saccagée par les rois grecs. Virgile décrit une scène dans laquelle le bateau de Enée va couler dans une tempête. Vénus demande à son père Jupiter (= Zeus) d'intervenir. Voilà ce que Jupiter répond :*

« Ne crains rien, comme je te l'ai promis, tu pourras voir la ville de Lavinium. Sous tes yeux, en Italie, Enée mènera une rude guerre et anéantira des peuplades farouches.

Après lui, son fils Ascagne quittera Lavinium pour établir son trône au roc d'Albe. Deux générations plus tard, Rhéa Silvia aura avec Mars (dieu de la guerre), deux enfants : Rémus et Romulus. **Puis Romulus, à son tour donnera son nom au peuple des Romains.** Je ne mets pas de limites à la puissance de ce peuple, ni dans le temps ni dans l'espace ; je leur ai donné un empire sans fin. »

1 - Qui prend la parole dans cet extrait, et pourquoi ? \_\_\_\_\_

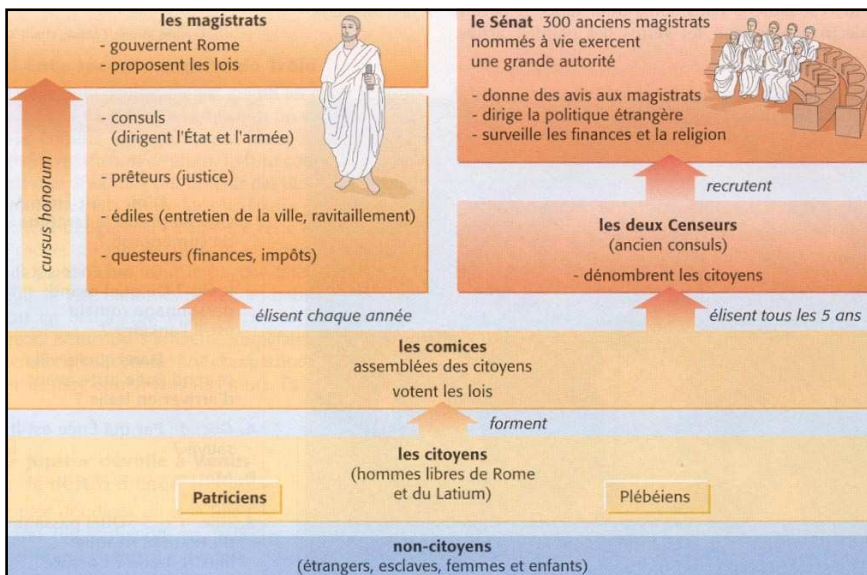
2 - Complète le tableau ci-dessous pour présenter Enée :

D'où vient-il ?	
De qui est-il le fils ?	
Pourquoi part-il ?	
Où se rend-il ?	

3 - Que signifie le passage en caractères gras ? \_\_\_\_\_

4 - Trouve deux exemples tirés du texte et montrant que l'Enéide sert à valoriser les Romains : \_\_\_\_\_

4 pts



1 - Quelles sont les deux « catégories » de citoyens à Rome ? (pense à expliquer les termes que tu utilises)

2 - En t'aidant du schéma, complète le tableau pour montrer l'importance des magistrats à Rome :

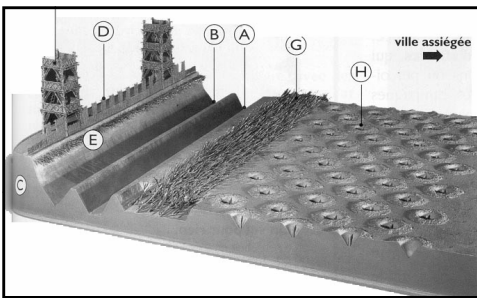
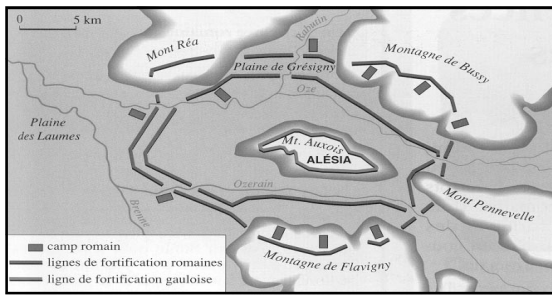
Les quatre postes de magistrats :	Leur rôle à Rome (connaissance de cours)

Le fonctionnement de la République romaine :

3 - Par quelle expression vue en cours peux-tu remplacer celle de *cursus honorum* mentionnée sur le schéma ?

4 - Pourquoi peut-on dire que le Sénat romain est d'une très grande importance ?

4 pts



D'après César, *La Guerre des Gaules* :  
 « César fait creuser **deux larges fossés**. En arrière, il fait élever un remblai (une butte) et une palissade. Dans le remblai, il insère de grandes fourches de bois. Sur le remblai sont construites des tours distantes de 80 pieds. Devant les deux fossés, se trouvent cinq rangs de troncs d'arbre taillés en pointe. En avant encore, il y a huit rangées de pieux de bois au fond de trous, leur pointe aiguisée au feu dressée vers le haut. Vercingétorix décide alors d'épargner les Gaulois, et de se livrer aux Romains »

Le site d'Alésia :

Les fortifications romaines à Alésia

1 - Quel est l'affrontement dont on parle dans ces documents, et qui oppose-t-il ?

2 - Où sont les Gaulois sur le premier document ?

3 - Que font alors les Romains ? Quel nom donne-t-on à cette stratégie ? (vocabulaire de cours)

4 - Complète le tableau ci-dessous pour comprendre ce que sont les fortifications romaines à Alésia :

Lettre A sur le schéma	D'après le texte : c'est un fossé
B	D'après le texte : c'est un second fossé
C	
D	
E	
F	
G	
H	

5 - Que décide finalement Vercingétorix, et pourquoi ?

Tg

4 pts